

**PREFEITURA MUNICIPAL DE VINHEDO****EDITAL Nº 01/2014****NÍVEL MÉDIO****ASSISTENTE DE GESTÃO - ESCRITURÁRIO
ASSISTENTE DE SERVIÇOS DE LAZER E DESENVOLVIMENTO SOCIAL -
CUIDADOR
FISCAL DE OBRAS**

NOME DO CANDIDATO

ASSINATURA DO CANDIDATO

RG DO CANDIDATO

LEIA COM ATENÇÃO AS INSTRUÇÕES ABAIXO**INSTRUÇÕES GERAIS**

- I. Nesta prova, você encontrará 04 (quatro) páginas numeradas sequencialmente, contendo 40 (quarenta) questões correspondentes às seguintes disciplinas: Língua Portuguesa (15 questões), Matemática (10 questões), Informática (10 questões) e Atualidades (05 questões).
- II. Verifique se seu nome e número de inscrição estão corretos no cartão de respostas. Se houver erro, notifique o fiscal.
- III. Assine e preencha o cartão de respostas nos locais indicados, com caneta azul ou preta.
- IV. Verifique se a impressão, a paginação e a numeração das questões estão corretas. Caso observe qualquer erro, notifique o fiscal.
- V. Você dispõe de 3 (três) horas para fazer esta prova. Reserve os 20 (vinte) minutos finais para marcar o cartão de respostas.
- VI. O candidato só poderá retirar-se do setor de prova 1h30m (uma hora e trinta minutos) após seu início.
- VII. O candidato não poderá levar o caderno de questões. O Caderno de Questões das provas objetivas será divulgado no endereço eletrônico do IBFC (www.ibfc.org.br), durante o período recursal.
- VIII. Marque o cartão de respostas cobrindo fortemente o espaço correspondente à letra a ser assinalada, conforme o exemplo no próprio cartão de respostas.
- IX. A leitora óptica não registrará as respostas em que houver falta de nitidez e/ou marcação de mais de uma alternativa.
- X. O cartão de respostas não pode ser dobrado, amassado, rasurado ou manchado. Exceto sua assinatura, nada deve ser escrito ou registrado fora dos locais destinados às respostas.
- XI. Ao terminar a prova, entregue ao fiscal o cartão de respostas e este caderno. As observações ou marcações registradas no caderno não serão levadas em consideração.
- XII. É terminantemente proibido o uso de telefone celular, pager ou similares.

Boa Prova!

DESTAQUE AQUI

**GABARITO DO CANDIDATO - RASCUNHO**

Nome:

Assinatura do Candidato:

Inscrição:

1	2	3	4	5	6	7	8	9	10	11	12	13	14	15	16	17	18	19	20	21	22	23	24	25
<input type="checkbox"/>	<input type="checkbox"/>	<input type="checkbox"/>	<input type="checkbox"/>	<input type="checkbox"/>	<input type="checkbox"/>	<input type="checkbox"/>	<input type="checkbox"/>	<input type="checkbox"/>	<input type="checkbox"/>	<input type="checkbox"/>	<input type="checkbox"/>	<input type="checkbox"/>	<input type="checkbox"/>	<input type="checkbox"/>	<input type="checkbox"/>	<input type="checkbox"/>	<input type="checkbox"/>	<input type="checkbox"/>	<input type="checkbox"/>	<input type="checkbox"/>	<input type="checkbox"/>	<input type="checkbox"/>	<input type="checkbox"/>	<input type="checkbox"/>
26	27	28	29	30	31	32	33	34	35	36	37	38	39	40										
<input type="checkbox"/>	<input type="checkbox"/>	<input type="checkbox"/>	<input type="checkbox"/>	<input type="checkbox"/>	<input type="checkbox"/>	<input type="checkbox"/>	<input type="checkbox"/>	<input type="checkbox"/>	<input type="checkbox"/>	<input type="checkbox"/>	<input type="checkbox"/>	<input type="checkbox"/>	<input type="checkbox"/>	<input type="checkbox"/>										

RASCUNHO

Texto I

Entro na redação e vejo uma estagiária. Vocês, que não conhecem os subterrâneos de jornal, imaginam como uma redação é povoada de seres misteriosíssimos. Procurem visualizar uma paisagem submarina. Há peixes azuis, escamas cintilantes, águas jamais sonhadas. De vez em quando, sai de uma caverna um monstro de movimentos lerdos, pacientes, etc. e passa um peixe sem olhos, que emana uma luz própria,

Eis que eu queria dizer: quando entrei, pela primeira vez, numa redação, acabava de fazer dez anos. Com a trágica inocência das calças curtas, tive a sensação de que entrava numa outra realidade. As pessoas, as mesas, as cadeiras e até as palavras tinham um halo intenso e lívido. Era, sim, uma paisagem tão fascinante e espectral como se redatores, mesas, cadeiras e contínuos fossem também submarinos.

(RODRIGUES, Nelson. *A dama do lotação e outros contos e crônicas*. Rio de Janeiro: Ediouro, 2000.)

Vocabulário:

halo – em sentido figurado, glória, prestígio.

lívido – muito pálido

1) No primeiro parágrafo, o narrador transporta o leitor para uma paisagem submarina. Essa imagem ganha um sentido mais claro, no segundo parágrafo, quando se percebe que:

- a) corresponde a sentido típico atribuído às redações.
- b) se refere a recordações de um outro personagem.
- c) o ambiente marítimo representa o medo sentido pelo narrador.
- d) se trata de uma lembrança infantil do narrador.

2) Na primeira frase do texto, o elemento linguístico que evidencia a percepção de que serão relatadas experiências pessoais do narrador é:

- a) o emprego de verbos em primeira pessoa.
- b) a relação entre duas orações.
- c) o tamanho da frase.
- d) o uso de um artigo indefinido.

3) Em “uma redação é povoada de seres misteriosíssimos”, empregou-se o sufixo para atribuir destaque ao adjetivo. Consegue-se efeito semelhante na língua por meio de todas as construções listadas abaixo, exceto:

- a) seres bastante misteriosos
- b) seres misteriosos ao extremo
- c) seres bem misteriosos
- d) seres quase misteriosos

4) Para tornar a narrativa mais dinâmica, no primeiro parágrafo, o autor empregou, predominantemente, o mesmo tempo verbal: o Presente do Indicativo. Desse modo, dentre os listados abaixo, o único verbo que não está flexionado nesse tempo e modo é:

- a) “conhecem”
- b) “Há”
- c) “Procurem”
- d) “sai”

5) Ao descrever “sua paisagem submarina”, o narrador emprega:

- a) apenas elementos reais.
- b) elementos reais e fantasiosos.
- c) apenas elementos fantasiosos.
- d) a imaginação de um conflito real.

6) No fragmento “Eis que eu queria dizer: quando entrei, pela primeira vez, numa redação,”, o termo em destaque cumpre, morfologicamente, papel:

- a) substantivo
- b) numeral
- c) adverbial
- d) adjetivo

7) Considerando o contexto, ao fazer uso da expressão “Com a trágica inocência das calças curtas”, o narrador pretende representar:

- a) sua pouca idade
- b) sua falta de dinheiro
- c) seu talento artístico
- d) seu estilo favorito de roupas

8) No trecho “tive a sensação de que entrava numa outra realidade”, o emprego da preposição “de” justifica-se por uma dependência sintática:

- a) ao substantivo “sensação”
- b) ao verbo “tive”
- c) ao verbo “entrava”
- d) ao substantivo “realidade”

9) Em relação à concordância do verbo “haver” em “Há peixes azuis, escamas cintilantes, águas jamais sonhadas.”, pode-se afirmar que ele:

- a) concorda com o sujeito composto “peixes azuis, escamas cintilantes, águas jamais sonhadas”.
- b) concorda apenas com um dos núcleos do sujeito composto “peixes azuis, escamas cintilantes, águas jamais sonhadas”.
- c) está concordando com um sujeito “ele”, que está implícito.
- d) está flexionado no singular em função de seu caráter impessoal.

10) Ao relacionar as orações “E passa um peixe sem olhos, que emana uma luz própria.”, percebe-se que:

- a) a retirada da vírgula não implicaria mudança alguma de sentido.
- b) o pronome “que” retoma um termo da oração que o precede.
- c) sintaticamente, o sujeito das duas orações é o mesmo – “um peixe”.
- d) o vocábulo “e” introduz valor semântico de conclusão.

Texto II

Por dentro do seguro residencial

E, se acidentes são inevitáveis, o mesmo não se pode dizer da surpresa ao descobrir que o contrato não previa a cobertura para aquele infortúnio que acaba de acontecer. Embora a Susep determine coberturas mínimas para essa categoria de seguro, elas podem não atender às necessidades do morador. “Consumidores tendem a acreditar que o seguro residencial é garantia para todo tipo de ocorrência, mas a indenização só ocorre se o sinistro estiver descrito no contrato”, afirma Mariana Alves Tornero, advogada do Instituto Brasileiro de Defesa do Consumidor (Idec).

(Veja, 06/08/14)

11) Em relação à primeira frase do texto, pode-se concluir que:

- a) o contrato de cobertura de um seguro residencial é inevitável assim como os acidentes.
- b) os acidentes, diferentemente dos seguros, podem ser evitados.
- c) a surpresa com a cobertura de um contrato de seguro residencial pode ser evitada.
- d) tanto os acidentes, quanto as surpresas de um contrato de seguro residencial são inevitáveis.

12) No texto, para evitar a repetição, foram empregadas palavras de sentidos equivalentes. Assinale aquela que, dentre as destacadas abaixo, diferencia-se do sentido das demais.

- a) "E, se acidentes são inevitáveis"
- b) "coberturas mínimas para essa categoria de seguro"
- c) "a cobertura para aquele infortúnio"
- d) "se o sinistro estiver descrito"

13) O conectivo "embora", que introduz a segunda frase do texto, apresenta valor semântico de:

- a) concessão
- b) conclusão
- c) adição
- d) consequência

14) Em "elas podem não atender às necessidades do morador", ocorre crase em função da junção da preposição "a" com o artigo definido "as". Assinale a opção em que ocorre um exemplo de preposição "a".

- a) "que o contrato não previa a cobertura"
- b) "Embora a Susep determine coberturas"
- c) "mas a indenização só ocorre"
- d) "Consumidores tendem a acreditar que"

15) A citação da advogada, ao final do texto, cumpre melhor o papel de:

- a) negar o que foi exposto anteriormente.
- b) exemplificar as informações apresentadas.
- c) reforçar a ideia defendida.
- d) questionar o que foi dito anteriormente.

MATEMÁTICA

16) Um conjunto A possui exatamente 6 elementos e um conjunto B possui exatamente 7 elementos sendo que três deles são comuns ao conjunto A. Nessas condições é correto afirmar que:

- a) A e B são disjuntos.
- b) O total de elementos (união) entre A e B é de 11 elementos.
- c) A e B têm no total 10 elementos distintos.
- d) O conjunto A tem quatro elementos distintos de B.

17) Dada a função $f(x) = \log_{1/2}^x$ (log de x na base $\frac{1}{2}$), então

o valor de $3.f(4)$ é igual a:

- a) 12
- b) -6
- c) -12
- d) 18

18) O sexto termo de uma progressão aritmética cujo primeiro termo é igual a 3 e a razão é igual a (-2) é também o segundo termo de uma progressão geométrica de razão igual a 2. Desse modo, o primeiro termo da progressão geométrica é igual a:

- a) -3,5
- b) -14
- c) -2,5
- d) -7

19) O valor do determinante da matriz de ordem 3 formada pelos coeficientes de x, y e z do sistema de

$$\begin{cases} x + 2y - z = 2 \\ 2x - y + 3z = 4 \\ 3x - 2y + z = 2 \end{cases} \text{ é igual a:}$$

- a) 16
- b) 24
- c) 22
- d) 20

20) Um banco pretende disponibilizar senhas de oito dígitos aos seus clientes, utilizando todas as letras da palavra BANCADA. O total de senhas diferentes que se pode formar é de:

- a) 5040
- b) 2520
- c) 1260
- d) 840

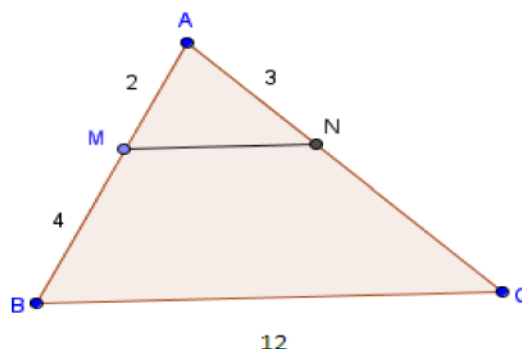
21) O conjunto solução que representa as raízes complexas do polinômio $P(x) = x^3 + 9x$ é:

- a) $S = \{-i, 0, i\}$
- b) $S = \{-2i, 1, 2i\}$
- c) $S = \{-3i, 0, 3i\}$
- d) $S = \{-9i, 0, 9i\}$

22) Se $\sin^2 \alpha + \cos^2 \alpha = 1$ e que $\operatorname{cosec} \alpha = \frac{1}{\sin \alpha}$, então o valor de $\operatorname{cosec} \alpha$ sabendo que $\cos \alpha = \frac{1}{4}$ e α pertencente ao primeiro quadrante é igual a:

- a) $\frac{4\sqrt{15}}{15}$
- b) $\frac{3\sqrt{14}}{7}$
- c) $\frac{3\sqrt{15}}{15}$
- d) $\frac{4\sqrt{15}}{5}$

23) No triângulo ABC da figura sabe-se que segmento MN é paralelo ao lado BC. Nessas condições o perímetro do triângulo AMN é:

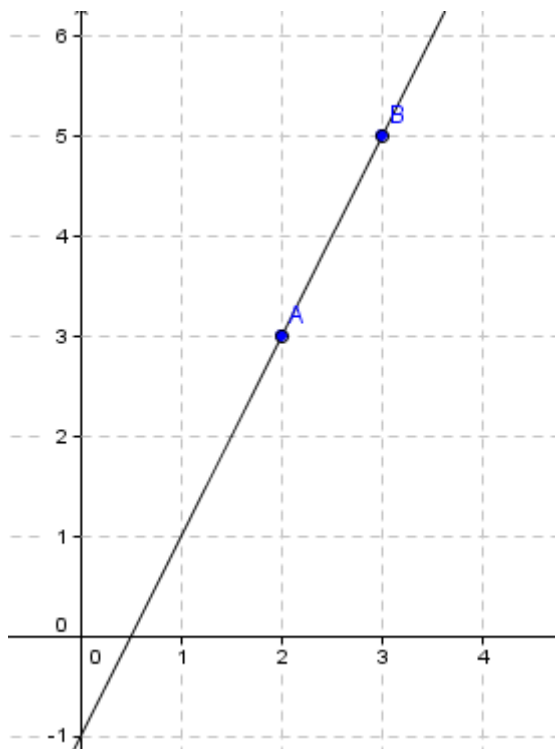


- a) 23
- b) 9
- c) 11
- d) 10

24) O volume de um cilindro de altura igual a 20 cm, cujo raio é igual ao da esfera de área total $36\pi \text{ cm}^2$, é igual a:

- a) $90\pi \text{ cm}^3$
- b) $60\pi \text{ cm}^3$
- c) $120\pi \text{ cm}^3$
- d) $180\pi \text{ cm}^3$

25) A equação geral da reta, descrita na figura, é:



- a) $2x - y + 1 = 0$
- b) $x + 2y - 1 = 0$
- c) $2x - y - 1 = 0$
- d) $x - 2y - 1 = 0$

INFORMÁTICA

26) Um HD (disco rígido) tem como principal utilidade a de armazenar dados em um computador. Atualmente já encontramos no mercado HD com a capacidade de:

- a) 1 MB
- b) 1 GB
- c) 1 KB
- d) 1 TB

27) Tanto no Windows NT, como no Windows XP, o gerenciador de arquivos e pastas desses Sistemas Operacionais é denominado de:

- a) Windows Files
- b) Scanner Files
- c) Windows Explorer
- d) Scanner Explorer

28) Quanto aos procedimentos básicos para realização empresarial de cópias de segurança (backup), analise as afirmativas abaixo, dê valores Verdadeiro (V) ou Falso (F) e assinale a alternativa que apresenta a sequência correta (de cima para baixo):

- () com as novas tecnologias não existe mais a necessidade de se fazer backup diariamente.
 - () restore é o processo de restauração de dados armazenados em subsistemas de discos e/ou biblioteca de fitas.
- a) V - V
 - b) V - F
 - c) F - V
 - d) F - F

29) O HTML é uma linguagem de marcação utilizada para produzir páginas na Web. Atualmente, na Internet, muitos sites já estão adaptando-se para a versão mais nova do HTML que é denominado:

- a) HTML3
- b) HTML5
- c) newHTML
- d) HTML7

30) O Access 2007 pode ser usado para criar aplicativos de banco de dados baseados em navegador. O Microsoft Office Access 2007 Runtime é utilizado principalmente para:

- a) rodar o Access 2007 até mesmo em máquinas que tenham menos de 4 GB de memória.
- b) processar banco de dados do Access 2007 em máquinas com processadores de um único núcleo.
- c) rodar o Access 2007 diretamente em navegadores da Internet, sem a necessidade de se fazer a instalação completa do Access.
- d) distribuir aplicativos criados no Access 2007 para usuários que não possuem a versão completa do Access instalada em seus computadores.

31) Com base na planilha do Microsoft Excel abaixo, assinale a alternativa que apresenta o resultado da fórmula: $=B2*C1/B1-A1+A2*C2$

	A	B	C
1	1	2	3
2	6	5	4

- a) 30,5
- b) 39
- c) 50
- d) 26,5

32) No Windows XP o Menu Iniciar apresenta várias opções, como o botão 'Fazer logoff'. Esse botão tem como principal funcionalidade a de:

- a) fechar todos os programas do usuário atual e aparecer a janela para escolha de um novo usuário.
- b) desligar o computador, com segurança, permitindo que todos os programas sejam fechados adequadamente sem perda de dados.
- c) adormecer o computador para reinicializar, de forma imediata, quando for ligado.
- d) reprocessar o Sistema Operacional em casos de avaria e perda de dados após uma queda de energia.

33) O aplicativo padrão da Microsoft para processar os e-mails de Correio Eletrônico, que além de ser um calendário, gerenciador de contatos e também gerenciador de tarefas é o:

- a) Windows Server.
- b) Microsoft OneNote.
- c) Windows Media Center.
- d) Microsoft Outlook.


34) No PowerPoint 2007, ao se desejar a criação de um estilo, um formato e um esquema de cores uniformes para um conjunto de apresentações que se esteja planejando, deve-se criar e aplicar:

- a) um elemento SmartArt à apresentação.
- b) um modelo à apresentação.
- c) uma biblioteca de slides à apresentação.
- d) uma estrutura de tópicos à apresentação.

35) No Microsoft Word 2007, para desativar o modo "Leitura em Tela Inteira" e retornar ao modo "Layout de Impressão" deve-se pressionar a tecla:

- a) ALT
- b) CTRL
- c) ESC
- d) SHIFT

- 36) Analise o mapa a seguir para responder a esta questão. A indicação correta do ponto cardeal que deverá ser colocado na caixa com a interrogação está descrita na alternativa:



- a) IV.
b) I.
c) III.
d) II.
- 37) Nas últimas semanas a imprensa falada e escrita comentou sobre os fundos abutres, os quais compram dívidas de países e empresas por preços bem menores que o valor real, e tentam receber na justiça, ou através de outro mecanismo financeiro os valores devidos. Notoriamente um país vizinho ao Brasil foi o que desencadeou essas notícias. Assinale o país que esteve em foco, e foi o grande responsável por esse termo vir à tona:
- a) Argentina.
b) Uruguai.
c) Bolívia.
d) Venezuela.

- 38) Preencha a lacuna do texto a seguir com a resposta correta. As coligações partidárias são muito comuns no Brasil. Partidos que têm divergências em um estado, porque lançaram candidatos próprios, podem ser aliados em outros estados, para que a força somada vença um candidato mais forte. Nessa eleição tivemos uma candidatura lançada, onde o PSB se uniu ao(à) _____ para competirem à presidência da república.

- a) Real Democracia.
b) Partido Verde.
c) Solidariedade.
d) Rede Sustentabilidade.

- 39) O vírus Ebola voltou a figurar nos noticiários do mundo todo devido a um surto em alguns países africanos, mais precisamente na _____. Assinale a alternativa que completa corretamente a lacuna.

- a) África Setentrional.
b) África Ocidental.
c) África Oriental.
d) África Meridional.

- 40) A falta de água em São Paulo assusta moradores e governantes. Muito se tem falado sobre o assunto. A água, bem vital à vida humana e dos animais, é um bem precioso e deve ser tratada com seriedade. Em São Paulo existem alguns mananciais, os quais estão descritos a seguir, exceto pelo que se lê alternativa:

- a) Sistema Bom Jesus Pirapora.
b) Sistema Guarapiranga.
c) Sistema Alto Tietê.
d) Sistema Alto Cotia.